

Klassenstufen 7 und 8

Donnerstag, 20. März 2025

Arbeitszeit: 75 Minuten

- Von den jeweils 5 Antworten ist genau eine richtig.
- Jede Teilnehmerin und jeder Teilnehmer bekommt zu Beginn 30 Punkte. Bei einer richtigen Antwort werden die vorgesehenen 3, 4 oder 5 Punkte hinzuaddiert. Wird keine Antwort gegeben, gibt es 0 Punkte. Bei einer falschen Antwort wird ein Viertel der vorgesehenen Punkte abgezogen, also 0,75 Punkte, 1 Punkt bzw. 1,25 Punkte. Die höchste zu erreichende Punktzahl ist 150, die niedrigste 0.
- Taschenrechner und andere elektronische Hilfsmittel sind nicht zugelassen.

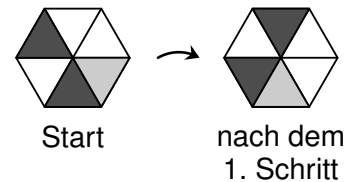
3-Punkte-Aufgaben

1. An meinem Kühlschrank haften vier Magnete mit Ziffern darauf **2 0 2 5**. Welche ist die grösste Zahl, die sich aus ihnen bilden lässt?

(A) 2052 (B) 5202 (C) 2502 (D) 5220 (E) 5022

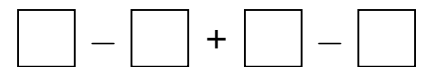
2. Finn hat ein sechseckiges Blatt Papier. Er dreht es schrittweise immer ein Feld im Uhrzeigersinn. Nach welcher der folgenden Schrittzahlen liegt das Blatt wieder wie am Anfang?

(A) 14 (B) 17 (C) 10 (D) 15 (E) 12



3. Vivienne möchte die vier Ziffern 1, 2, 3 und 4 in die vier Kästchen der Rechnung schreiben.

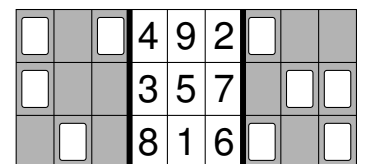
Welches ist das kleinste Ergebnis, das Vivienne erhalten kann?



(A) -3 (B) -4 (C) -5 (D) -6 (E) -7

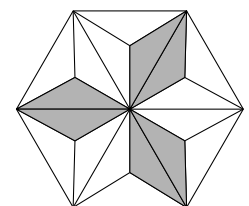
4. Eine Klappkarte mit Löchern wird an den dicken Linien gefaltet. Nach dem Falten ist nur noch eine einzige Zahl zu sehen. Welche?

(A) 2 (B) 3 (C) 4 (D) 5 (E) 6



5. Das regelmässige Sechseck rechts ist in gleich grosse Dreiecke geteilt. Welcher Anteil des Sechsecks ist grau?

(A) $\frac{1}{2}$ (B) $\frac{1}{3}$ (C) $\frac{1}{4}$ (D) $\frac{1}{5}$ (E) $\frac{1}{6}$



6. Louisa ist am 56. Geburtstag ihres Grossvaters geboren. Heute feiern die beiden gemeinsam Geburtstag. Sie sind zusammen 100 Jahre alt. Wie alt ist Louisa?

(A) 31 (B) 29 (C) 25 (D) 24 (E) 22


7. Vor meinem Lieblings-Burger-Restaurant steht eine Tafel mit der Speisekarte. Der Regen hat einige der Zahlen weggewaschen. Ich weiss, dass die Burger von oben nach unten teurer werden.

Wie viel kostet ein Deluxe-Burger mindestens?

(A) 5,80 (B) 6,80 (C) 7,80 (D) 8,80 (E) 9,80



8. Es sind 18 Würfel so gestapelt, dass sie einen Quader bilden. Um den Quader sind zwei Bänder rundherum gebunden.



Wie viele der Würfel berühren mindestens eines der Bänder?

- (A) 15 (B) 13 (C) 12 (D) 11 (E) 9

9. Der neue Osterhasen-Verpackungsautomat verpackt in jeweils 12 Minuten 100 Schokoladen-Osterhasen in Folie. Wie viele Schokoladen-Osterhasen verpackt der Automat in 12 Stunden?

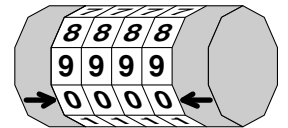
- (A) 6000 (B) 4500 (C) 3000 (D) 2400 (E) 1600

10. Sandra würfelt mit drei Spielwürfeln. Die Würfel zeigen zusammen 8 Augen. Jeder der drei Würfel zeigt eine andere Augenzahl. Welche Augenzahl ist sicher nicht dabei?

- (A) (B) (C) (D) (E)

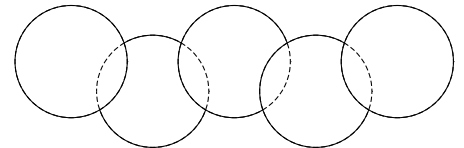
4-Punkte-Aufgaben

11. Bei meinem Fahrradschloss wird an den Pfeilen die richtige Kombination eingestellt. Im Moment steht dort 0000. Zwei Reihen oberhalb steht 8888. Nun stelle ich die richtige Kombination an den Pfeilen ein. Zwei Reihen oberhalb steht jetzt 2719. Welche ist die richtige Kombination?



- (A) 4931 (B) 4593 (C) 0531 (D) 4537 (E) 0937

12. Die Figur rechts wird von fünf Kreisen mit einem Flächeninhalt von jeweils 8 cm^2 gebildet. Die Flächen, an denen zwei Kreise überlappen, haben jeweils einen Flächeninhalt von 1 cm^2 . Welchen Flächeninhalt hat die gesamte Figur?



- (A) 31 cm^2 (B) 34 cm^2 (C) 36 cm^2 (D) 38 cm^2 (E) 39 cm^2

13. In der Halle findet ein Hürdenlauf über 60 Meter statt. Die 5 Hürden sind schon aufgebaut. Die erste Hürde steht 12 Meter nach dem Start. Der Abstand zwischen zwei benachbarten Hürden beträgt jeweils 8 Meter. Wie weit ist die letzte Hürde vom Ziel entfernt?

- (A) 18 Meter (B) 16 Meter (C) 14 Meter (D) 12 Meter (E) 10 Meter

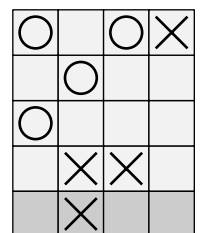
14. Werner trainiert auf einem Laufband im Fitnessstudio. Dabei schaut er immer wieder auf zwei Stoppuhren. Die erste gibt die Zeit an, die seit dem Trainingsstart vergangen ist, und die zweite die Zeit, die noch bis zum Ende des Trainings bleibt. Werner freut sich, als beide Stoppuhren dasselbe anzeigen. Was zeigen sie dann?



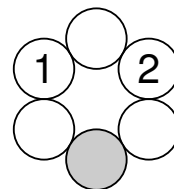
- (A) 17:45 (B) 17:50 (C) 18:00 (D) 18:15 (E) 18:20

15. In dem abgebildeten Rechteck soll in jedes Kästchen entweder ein Kreis oder ein Kreuz eingetragen werden. In keiner waagerechten oder senkrechten Linie dürfen 3 Kreise oder 3 Kreuze unmittelbar aufeinander folgen. Wie muss die unterste Zeile ausgefüllt werden?

- (A) (B) (C)
 (D) (E)



16. In jeden der Kreise rechts soll eine Zahl eingetragen werden. Jede Zahl soll die Summe der beiden Zahlen in den benachbarten Kreisen sein. Zwei Zahlen sind vorgegeben. Welche Zahl gehört in den grauen Kreis?

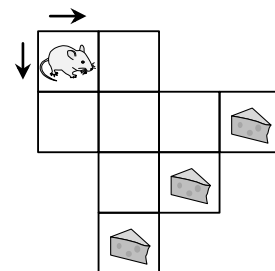


- (A) 0 (B) -1 (C) -2 (D) -3 (E) -5

17. Auf einer Burg sind alle Ritter entweder edle Ritter, die immer die Wahrheit sagen, oder Raubritter, die immer lügen. Es sind 8 edle Ritter mehr als Raubritter. Jeder Ritter wurde gefragt: „Bist du ein edler Ritter?“ Alle haben geantwortet, und 20-mal war die Antwort „Ja“. Wie viele Raubritter gibt es auf der Burg?

- (A) 6 (B) 7 (C) 8 (D) 9 (E) 10

18. Die Maus Niki möchte zu einem Käsestück kommen. Niki läuft bei jedem Schritt ein Kästchen nach rechts oder ein Kästchen nach unten. Wie viele verschiedene Wege gibt es für Niki, um zu einem Käsestück zu kommen?



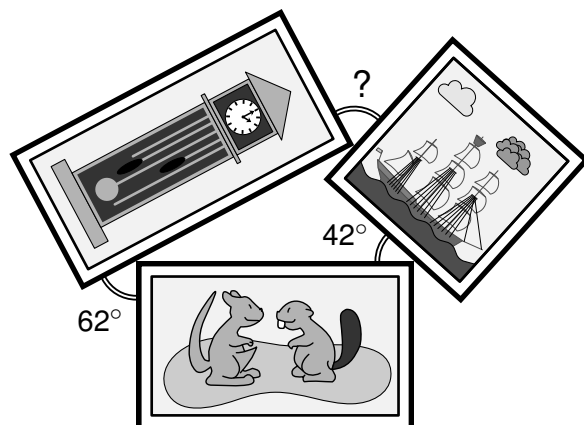
- (A) 10 (B) 8 (C) 7 (D) 6 (E) 5

19. Diego macht sich immer um 8 Uhr auf den Weg zur Schule. Diese ist 1 km entfernt. Wenn er zu Fuss geht, hat er eine Geschwindigkeit von 4 km/h und ist 5 Minuten vor Unterrichtsbeginn da. Wenn er mit dem Fahrrad fährt, hat er eine Geschwindigkeit von 15 km/h. Wie viele Minuten ist Diego dann vor Unterrichtsbeginn da?

- (A) 12 (B) 13 (C) 14 (D) 15 (E) 16

20. Drei rechteckige Fotos liegen wie abgebildet auf dem Tisch. Wie gross ist der mit dem Fragezeichen markierte Winkel?

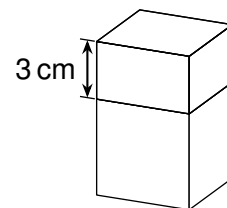
- (A) 68° (B) 70° (C) 72° (D) 74° (E) 78°



5-Punkte-Aufgaben

21. Die Höhe eines Quaders wird um 3 cm verkleinert. Der Oberflächeninhalt des Quaders verringert sich dadurch um 60 cm², und der Restkörper ist ein Würfel. Wie gross war das Volumen des ursprünglichen Quaders?

- (A) 75 cm³ (B) 125 cm³ (C) 150 cm³ (D) 200 cm³ (E) 225 cm³

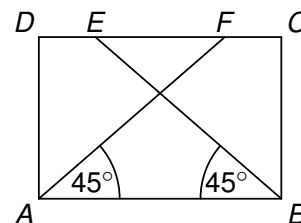


22. Die Buchstaben A, P und Y stehen für drei verschiedene einstellige Zahlen. Dabei gilt $Y = P + P = A + A + A$. Dann ist $P \cdot A \cdot P \cdot A \cdot Y \cdot A =$

- (A) 432 (B) 518 (C) 576 (D) 648 (E) 692

23. Im Rechteck ABCD liegen die Punkte E und F so auf der Seite \overline{CD} , dass die Winkel BAF und EBA beide 45° gross sind und die Strecken \overline{AF} und \overline{BE} einander schneiden. Ausserdem gilt $|AB| + |EF| = 20$ cm. (Abb. nicht massstabsgerecht) Wie lang ist die Seite \overline{BC} ?

- (A) 8 cm (B) 9 cm (C) 10 cm (D) 11 cm (E) 12 cm



24. Vor einem Volleyballspiel haben alle Spielerinnen unterschiedlich lange trainiert. In der ersten Gruppe sind sieben Mädchen, die 1, 2, 6, 8, 10, 11 und 12 Stunden trainiert haben. In der zweiten Gruppe sind fünf Mädchen, die 3, 4, 5, 7 und 9 Stunden trainiert haben. Um zwei Teams aus jeweils sechs Spielerinnen zu bilden, wechselt Mila aus der ersten Gruppe in die zweite. Der Trainerin fällt auf, dass dadurch die durchschnittliche Trainingszeit in beiden Gruppen zunimmt. Wie lange hat Mila trainiert?

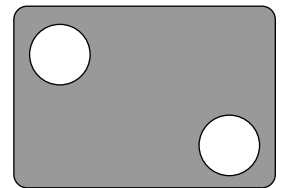
(A) 2 Stunden (B) 6 Stunden (C) 8 Stunden (D) 10 Stunden (E) 11 Stunden

25. In die 8 Kästchen sollen die 8 kleinsten Primzahlen so eingetragen werden, dass A eine ganze Zahl ist. Wie gross kann A maximal sein?

$$A = \frac{\square + \square + \square + \square + \square + \square + \square}{\square}$$

(A) 20 (B) 14 (C) 10 (D) 8 (E) 6

26. Beim Fussballtraining schiesst Oskar 17-mal auf eine Torwand. Er zielt immer auf eines der beiden Löcher. Von den Schüssen auf das Loch links oben sind 60% Treffer. Von den Schüssen auf das Loch rechts unten sind 75% Treffer. Wie viele von Oskars Schüssen auf das Loch rechts unten waren Treffer?

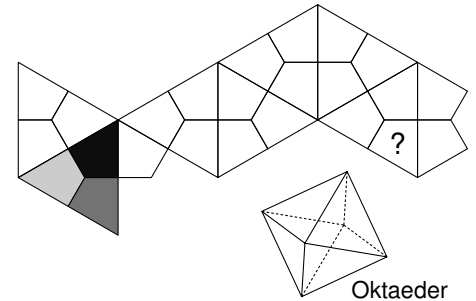


(A) 6 (B) 7 (C) 8 (D) 9 (E) 10

27. An der Tafel stehen fünf aufeinanderfolgende ganze Zahlen. Ich wische zwei Zahlen mit der Summe 72 weg. Dann wische ich zwei Zahlen mit der Summe 69 weg. Welche Zahl steht nun noch an der Tafel?

(A) 33 (B) 34 (C) 36 (D) 37 (E) 39

28. Amelie faltet aus dem abgebildeten Netz ein Oktaeder. Die Flächen im Netz färbt sie schwarz, dunkelgrau oder hellgrau. An jeder Ecke des Oktaeders und an jeweils gegenüberliegenden Oktaeder-Ecken sollen alle angrenzenden Flächen dieselbe Farbe haben. Wie muss Amelie die Fläche mit dem Fragezeichen färben?



(A) sicher schwarz (B) schwarz oder dunkelgrau
 (C) sicher dunkelgrau (D) dunkelgrau oder hellgrau
 (E) sicher hellgrau

29. Kerem war mit Ava, Linn und Ole aus seiner Schule in den Ferien bei einem Mathe-Camp. Dort waren alle in einem 4-stöckigen Haus untergebracht. In höheren Stockwerken als Ava haben 25 Kinder gewohnt, in höheren als Linn waren es 10 Kinder. Unterhalb von Ole waren 5 Kinder untergebracht, und unterhalb von Kerem waren es 2 Kinder. Die Anzahl der Kinder, die oberhalb von Kerem untergebracht waren, ist ein Vielfaches der Anzahl der Kinder unterhalb von ihm. Wie viele Kinder waren insgesamt beim Mathecamp?

(A) 27 (B) 30 (C) 32 (D) 37 (E) 40

30. Adira hat fünf kleine Truhen mit Perlen zum Basteln, in jeder Truhe eine Farbe: rot, gold, pink, schwarz und blau. Sie hat die Truhen wie gezeigt beschriftet. Alle Aufschriften sind korrekt. Adiras Freundin Ruby möchte wissen, in welcher Truhe die roten Perlen sind. Adira lässt sie in genau eine Truhe hineinschauen. Welche Truhe muss Ruby wählen, damit sie auf jeden Fall weiss, in welcher Truhe die roten Perlen sind?

